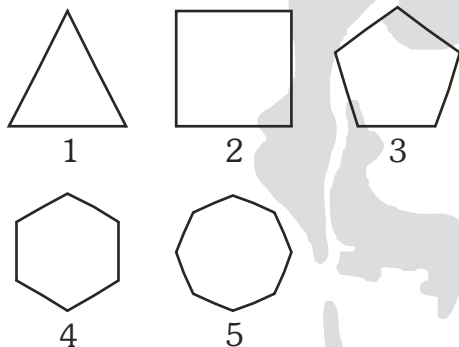


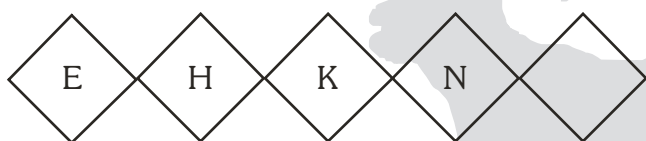


# MATEMÁTICA

- En el siguiente enunciado:  
¡Tengo 3 cifras y no soy un número impar!  
Reconoce la alternativa correcta:  
a) 72                      b) 134                      c) 203  
d) 721                      e) 899
- Infiere: En el año 2012 cumpliré 12 años, ¿en qué año tendré 18 años?  
a) 2013                      b) 2015                      c) 2018  
d) 2021                      e) 2024
- Reconoce la figura geométrica que no tiene relación con las demás.



- a) 5                      b) 1                      c) 4  
d) 2                      e) 3
- Verifica la letra que continúa en la serie:



- a) Q                      b) R                      c) O  
d) Ñ                      e) P
- Expresa la suma de los números que faltan en las distribuciones numéricas mostradas:

- a) 28  
b) 15  
c) 14  
d) 30  
e) 18

20	16	4
18	¿?	3

12	7	5
13	8	5
20	¿?	7

- Juanito tiene 8 caramelos y su amigo tiene el triple. Identifica la pregunta que mejor se acomoda al problema:  
a) ¿Cuántos caramelos tiene Juanito?  
b) ¿Cuántos caramelos más tiene Juanito?  
c) ¿Cuántos caramelos más tiene el amigo de Juanito?  
d) ¿Cuántos caramelos tendrá Jaimito dentro de dos días?  
e) ¿Cuántos caramelos tenía Juanito el día de ayer?

- Encuentra el número que corresponde a la siguiente afirmación:

El número 210 el es doble de:

- a) 60                      b) 4                      c) 105  
d) 55                      e) 100

- Descubre los números que faltan en los recuadros y luego encuentra la suma de los mismos.

$$\begin{array}{r} 82 \square - \\ 3 \square 2 \\ \hline \square 6 2 \end{array}$$

- a) 8  
b) 10  
c) 12  
d) 14  
e) 16

# COMUNICACIÓN

- Lee el siguiente texto e identifica los diminutivos, luego subraya la respuesta correcta:

Paco y Tony son dos duendecitos muy divertidos. Al atardecer, se sienta a la puerta de su casita del bosque para entonar canciones con los músicos de la orquesta Silbido. Su amigo Alf caracol toca la guitarra con alegría. Los chiquillos y las chiquillas acuden entusiasmados a estos conciertos improvisados.

- a) Hay 5 diminutivos.  
b) Hay 6 diminutivos.  
c) Hay 4 diminutivos.  
d) Hay 3 diminutivos.  
e) Hay 2 diminutivos.



10. Identifica el término excluido en cada grupo de palabras:

Guitarra	Ica	Nueve
Violín	Piura	Zeta
Trompeta	Iquitos	Cinco
Charango	Roma	Tres

- a) Guitarra – nueve – Roma.
- b) Trompeta – Ica – zeta.
- c) Roma – cinco – Piura.
- d) Tres – Roma – trompeta.
- e) Trompeta – Roma – zeta.

11. Reconoce: ¿Cuántos sustantivos propios hay en el siguiente texto?

En Máncora fuimos a la playa. Allí conocimos a Laura, una niña ciega muy simpática que siempre está leyendo. Puede hacerlo gracias al alfabeto Braille, que consiste en unos puntos en relieve sobre papel. Laura pasa sus dedos por los puntos y lee mil historias emocionantes. Luego se las cuenta a sus amigos Carlos, Bruno y Anita.

- a) Hay 5 sustantivos propios.
- b) Hay 7 sustantivos propios.
- c) Hay 4 sustantivos propios.
- d) Hay 6 sustantivos propios.
- e) Hay 9 sustantivos propios.


12. Completa el siguiente texto con las palabras convenientes:

Las personas nos comunicamos con los demás con palabras, gestos, imágenes o sonidos. Cuando usamos las palabras habladas o escritas, la comunicación es \_\_\_\_\_ Cuando usamos gestos, imágenes o sonidos, la comunicación es \_\_\_\_\_


- a) Comunicación – mímicas.
- b) Imágenes - sonidos.
- c) Teléfono - semáforo.
- d) Verbal – no verbal.
- e) Hablado – escrito.

13. Lee las siguientes noticias y escribe la letra del titular que le corresponde:


¡Ya han llegado las cigüeñas! Como todos los años en el mes de febrero, los campanarios, las torres y los árboles ya tienen compañía.



Hoy ha comenzado la vuelta ciclista al planeta. Trescientos corredores emprenderán un largo viaje cargado de ilusión.



El doctor Pérez ha inventado una máquina capaz de transportar los libros del colegio sin ningún esfuerzo.



A LA VUELTA AL MUNDO SOBRE RUEDAS

B INVENTOS DE ESTE SIGLO

C UN REGRESO ESPERADO

- a) A-B-C.
- b) C-A-B.
- c) B-C-A.
- d) B-A-B.
- e) A-A-B.

14. Deduce el concepto correcto para el siguiente texto:

Son textos que presentan información sobre un tema, en el que no se emite una opinión personal, pueden estar acompañadas de imágenes o esquemas.

- a) Los artículos.
- b) Los pronombres.
- c) Los cuentos.
- d) Los artículos enciclopédicos.
- e) La oración.

15. Lee el siguiente texto:

Para fortalecer el espíritu o para divertirse, en las bibliotecas públicas se puede leer o pedir libros prestados. Hace muchos años, la finalidad de las bibliotecas era conservar libros, por ello solo admitían a sabios y a estudiantes. Pero desde el siglo XVIII acogen a todo el público.



En las bibliotecas podemos encontrar libros informativos, biografías, atlas, diccionarios y enciclopedias. Así como textos literarios, cuentos, novelas, fábulas, poemas, leyendas y otros.

En la elaboración de libros se han usado diversos materiales: el bambú, la seda, la piel, y hasta el oro. En la actualidad, el material más común es el papel.

Señala la alternativa que describe mejor el texto:

- a) Los libros se deben tratar con cuidado.
  - b) La forma de elaboración de los libros.
  - c) Las bibliotecas son lugares donde solo se lee y no se habla.
  - d) Tipos de bibliotecas.
  - e) En las bibliotecas existen varias clases de libros.
16. Reconoce qué palabras tienen 5 y 6 sílabas respectivamente:
- a) Latinoamericano - Pacífico
  - b) América - Americano
  - c) Filosofía - refrigeradora
  - d) Estudiar - papelote
  - e) Salesiano - Religioso

## PERSONAL SOCIAL

17. Todos los niños tienen derecho a ser respetados. Estos derechos son defendidos por el Estado y por eso se ha creado una institución que vela por el bienestar de los niños. Identifica la institución correspondiente:



- a) La Defensoría del Pueblo
- b) La escuela
- c) La Demuna
- d) La Fiscalía
- e) La comisaría

18. Identifica a la institución encargada de otorgar el documento nacional de identidad (DNI):


- a) La Municipalidad
- b) La ONPE
- c) El Gobierno Regional
- d) El Estado
- e) El Reniec

19. El mar peruano tiene una extensión de 200 millas. Las aguas de nuestro mar son saladas, frías y de color azul verdoso.



Infiere, ¿por qué tiene ese color?

- a) Porque el agua es azul cristalino.
  - b) Por las sales minerales.
  - c) Porque todos los mares son así
  - d) Por la presencia del fitoplancton que se encuentra en el mar.
  - e) Porque es salado.
20. Reconoce: El Perú es un país megadiverso y de muchas riquezas. Como tenemos tantas riquezas hay que protegerlas, por eso se ha creado lugares donde los animales puedan vivir sin ser casados o molestados. Esos lugares son:



- a) Zoológicos del Perú
- b) Reservas Nacionales
- c) Centros Culturales
- d) Parque Nacionales – Reservas Naturales
- e) Parque Nacionales – Zoológicos Naturales



21. Identifica: En el imperio Inca el lugar donde los niños nobles eran preparados en todos los conocimientos necesarios para la administración se llamaba \_\_\_\_\_ y el maestro de esta escuela inca era conocido como \_\_\_\_\_.



- a) Escuela inca – Curaca
- b) Yachayhuasi – Curaca
- c) Yachayhuasi – Inca
- d) Casa del saber – Quipucamayoc
- e) Yachayhuasi – Amauta

**CIENCIA Y AMBIENTE**

22. Identifica a qué órganos protegen el cráneo y las costillas respectivamente:

- a) Estómago y lengua
- b) Glúteos y cabellos
- c) Cerebro y corazón
- d) Corazón y cerebro
- e) Cerebro y estómago

23. Los vertebrados se alimentan de diversas formas: unos comen carne, otros se alimentan de pasto y algunos comen de todo.

Según el texto: Identifica la forma de alimentación con su respectiva denominación.

- a) Omnívoros, herbívoros, carnívoros.
- b) Carnívoros, omnívoros, herbívoros.
- c) Herbívoros, carnívoros, omnívoros.
- d) Carnívoros, herbívoros, omnívoros.
- e) Omnívoros, Carnívoros, herbívoros.

24. Reconoce el orden secuencial de la formación de las diversas partes de una planta:

- a) Flor, fruto, tallo, hojas y raíz.
- b) Raíz, tallo, hojas, fruto y flor.
- c) Raíz, tallo, hojas, flor y fruto.
- d) Tallo, flor, fruto, hoja y raíz.
- e) Raíz, hojas, tallo, fruto y flor.

25. Identifica dos alimentos procesados y dos alimentos naturales:

- a) Pan, pescado – Atún, carne
- b) Manzana, huevo – Mantequilla, fideos.
- c) Huevo, naranja – Fideos, mantequilla.
- d) Mantequilla, fideos – Manzana, huevo.
- e) Atún, carne – Pescado, pan.

26. Identifica: ¿Qué tipo de respiración tienen los peces?

- a) Cutánea
- b) Traqueal
- c) Branquial y pulmonar
- d) Pulmonar
- e) Branquial

**CULTURA GENERAL**

27. El primer Inca que gobernó el Imperio Incaico entre los años 1200 y 1230 d.c. fue:

- a) Pachacutec
- b) Sinchi Roca
- c) Atahualpa
- d) Manco Capac
- e) Lloque Yupanqui

28. Completa los espacios en blanco con la alternativa correcta:

La independencia del Perú fue proclamada por ..... en el año.....

- a) Don José de San Martín, 1821
- b) Simón Bolívar, 1821
- c) San Martín de Porres, 1824
- d) Francisco Pizarro, 1824
- e) San Martín, 1824

29. Identifica la organización creada en Washington en 1889, cuya finalidad es de mantener y fomentar la paz entre los países de América.

- a) ONU
- b) ONGs
- c) OEA
- d) MERCOSUR
- e) Comunidad Andina

30. El Coliseo Romano, El Taj Mahal y la Muralla China son algunas de:

- a) Las Maravillas de la antigüedad
- b) Los monumentos más grandes del mundo
- c) Los monumentos más caros del mundo
- d) Las nuevas maravillas del mundo
- e) Los monumentos más altos del mundo